

# **REKENTERMEN**

## **DEEL 10**

### Inleiding:

Of je nu op school of thuis bent of ergens anders: op veel plaatsen kom je getallen tegen.

Maar....

- waar kom je die getallen dan tegen?
- welke getallen kom je dan tegen?
- waarom staan die getallen dan daar?
- staan zulke getallen dan ook op meer plaatsen?
- Wat betekenen die getallen eigenlijk?

Deze en andere vragen staan hieronder onder de plaatjes met getallen. Soms staan er alleen maar getallen. Soms staan er getallen in combinatie met één of meer letters en soms staan die getallen er in combinatie met één of meer woorden.

### Opdracht:

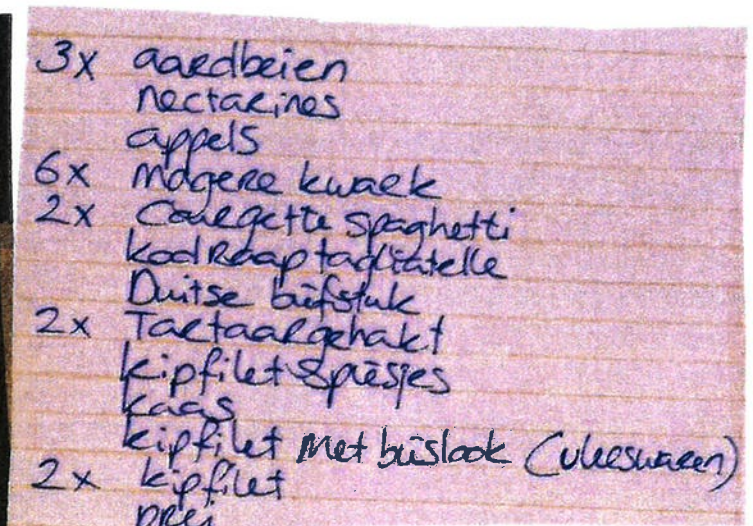
Hieronder en op de volgende bladzijdes staan plaatjes met één of meer getallen. Beantwoord de vragen, die onder deze plaatjes staan, op de juiste wijze!

Plaatje 1:



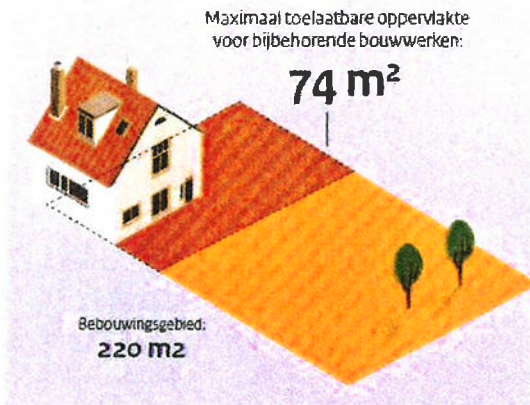
- Wat zie je hier?
- Welke getallen zie je hier?
- Waar staan die getallen?
- Waarom staan die getallen hier?
- Waar kom je deze nummering (= getallen) tegen?

Plaatje 2:



- Wat zie je hier?
- Welke getallen zie je hier?
- Waarom staan die getallen hier?
- Waarom worden er dit soort lijstjes gemaakt?

**Plaatje 3:**



**Plaatje 4:**

	Maan	Dinsd	Woens	Donde	Vrijda				
<b>1</b>	gr 6	hil 33	enc 33	hou 11	bi 11	Bon 23	wi 23	MGu	
<b>2</b>	enc 33	hou 10	sk 10	vrt	la 8	vis 25	ae 25	AOu 26	ae 26
<b>3</b>	fa 24	jag 19	ne 19	doo	enc 33	hou 30	du 30	Fic 11	bi 11
<b>4</b>	la 8	vis K	lo K	Ngh	gr 6	hil 7	gr 7	hil 25	wi 25
<b>5</b>	na 11	vrt	enc 33	hou 33	gs 1	PHe	beg 11	Ngh 30	du 30
<b>6</b>	ne 29	doo	ae 26	AOu 26	wi 23	MGu 23	fa 28	jag 11	na 11
<b>7</b>	sk 11	vrt	gs 4	PHe	ae 26	AOu 26	ne 29	doo 10	sk 10
<b>8</b>	bi 11	Bon			dr 29	scn 8	la 8	vis	
<b>9</b>	lo P	Ngh							

- a. Welk getal staat rechtsboven de dikgedrukte m?
- b. Wat betekent dit getal?
- c. Waarom staat dat getal er?
- d. Waar kom je dit getal nog meer tegen?


- a. Wat zie je hier?
- b. Welke getallen zie je helemaal links en wat betekenen die getallen?
- c. Wat betekenen de andere getallen en waar kom je die ook tegen?

**Plaatje 5a en 5b**



- a. Wat hebben deze twee plaatjes met elkaar te maken?
- b. Welke getallen zie je op deze twee plaatjes?
- c. Waarom staan die getallen er?

**Plaatje 6:**



- Wat zie je hier?
- Welke getallen zie je hier?
- Waarom staan die getallen er?
- Waarom staan er zwarte en rode getallen?

**Plaatje 7:**

**2022**

januari	februari	maart	april
ma di wo do vr za zo	ma di wo do vr za zo	ma di wo do vr za zo	ma di wo do vr za zo
1 2	1 2 3 4 5 6	1 2 3 4 5 6	1 2 3
3 4 5 6 7 8 9	7 8 9 10 11 12 13	7 8 9 10 11 12 13	4 5 6 7 8 9 10
10 11 12 13 14 15 16	14 15 16 17 18 19 20	14 15 16 17 18 19 20	11 12 13 14 15 16 17
17 18 19 20 21 22 23	21 22 23 24 25 26 27	21 22 23 24 25 26 27	18 19 20 21 22 23 24
24 25 26 27 28 29 30	28	28 29 30 31	25 26 27 28 29 30
31			
mei	juni	juli	augustus
ma di wo do vr za zo	ma di wo do vr za zo	ma di wo do vr za zo	ma di wo do vr za zo
1	1 2 3 4 5	1 2 3	1 2 3 4 5 6 7
2 3 4 5 6 7 8	6 7 8 9 10 11 12	4 5 6 7 8 9 10	8 9 10 11 12 13 14
9 10 11 12 13 14 15	13 14 15 16 17 18 19	11 12 13 14 15 16 17	15 16 17 18 19 20 21
16 17 18 19 20 21 22	20 21 22 23 24 25 26	18 19 20 21 22 23 24	22 23 24 25 26 27 28
23 24 25 26 27 28 29	27 28 29 30	25 26 27 28 29 30 31	29 30 31
30 31			
september	oktober	november	december
ma di wo do vr za zo	ma di wo do vr za zo	ma di wo do vr za zo	ma di wo do vr za zo
1 2 3 4	1 2	1 2 3 4 5 6	1 2 3 4
5 6 7 8 9 10 11	3 4 5 6 7 8 9	7 8 9 10 11 12 13	5 6 7 8 9 10 11
12 13 14 15 16 17 18	10 11 12 13 14 15 16	14 15 16 17 18 19 20	12 13 14 15 16 17 18
19 20 21 22 23 24 25	17 18 19 20 21 22 23	21 22 23 24 25 26 27	19 20 21 22 23 24 25
26 27 28 29 30	24 25 26 27 28 29 30	28 29 30	26 27 28 29 30 31
	31		

- Wat zie je hier?
- Welke getallen zie je hier?
- Waarom staan die getallen er?
- Op welke manier is 2022 ingedeeld?

**Plaatje 8**




- Wat zie je hier?
- Welke getallen zie je hier?
- Wat hebben die getallen met elkaar te maken?
- Waarom staan de namen Wim en Geesje er?

**Plaatje 9:**




- Welke getallen zie je hier?
- Waar staan die getallen?
- Welk getal staat rechtsboven de m?
- Wat betekent dit getal?
- Waar kom je dat getal nog meer tegen?

Plaatje 10:



- Welke getallen zie je hier?
- Waar staan en liggen deze getallen?
- Waarom staan en liggen die getallen daar?

Plaatje 11.



- Welke getallen zie je hier?
- Waar staan die getallen?
- Wat betekenen die getallen?
- Wat hebben die getallen met elkaar te maken?

Plaatje 12:



- Wat zie je hier?
- Welke getallen zie je?
- Waarom staan die getallen er?
- Waar kom je zulke getallen nog meer tegen?

Plaatje 13:



- Welk getal zie je hier?
- Waar staat dit getal?
- Waarom staat dat getal in combinatie met letters er?
- Waar kom je zo'n getal in combinatie met letters nog meer tegen?

Plaatje 14:



- a. Wat zie je hier?
- b. Welke getallen zie je hier?
- c. Waarom staan die getallen er?
- d. Waar kom je deze getallen nog meer tegen?

Plaatje 15:

Rabobank NL85RABO0362508283

Rekeninggegevens	Betalen	Incasseren
IBAN	NL85RABO0362508283	
BIC	RABONL2U	
Rekeninghouder	Snelstart	
Omschrijving	Rekening Courant	
Afschriften inlezen	Vanuit map bankafschriften	
Dagboek bank	RABO bank (1110)	
Map bankafschriften	C:\SnelStart\Bankieren\ Bladeren	

- a. Welke getallen zie je helemaal bovenaan?
- b. Wat betekenen die getallen (in combinatie met enkele letters) en waarvoor gebruik je die?
- c. Waar kom je deze getallen in combinatie met letters ook tegen?

Plaatje 16:



- a. Welk getal zie je hier?
- b. Waarom staat dat getal hier?
- c. Waar kom je dit getal tegen?

Plaatje 17:




- a. Welke getallen zie je helemaal onderaan staan?
- b. Wat betekenen deze getallen?
- c. Waarom staan die getallen hier?
- d. Waar kom je zulke getallen tegen?

Plaatje 18:



- Welk getal zie je hier?
- Waar staat dat getal?
- Wat staat er achter het dit getal?
- Wat betekent dit teken?
- Wat betekent dit getal in combinatie met dat teken?
- Waar kom je zo'n getal in combinatie met dat teken nog meer tegen?

Plaatje 20

**Zorgpas Basis Budget** 

M. van de Model  
 Geb. datum: 01-01-1964 man  
 Relatienr 123456789  
 BSN: 111222333

Klantenservice (071) 7510051  
 Uw persoonlijke zorgcoach (071) 7510093

**Afspraak in het ziekenhuis? Check altijd je zorgbudget.**

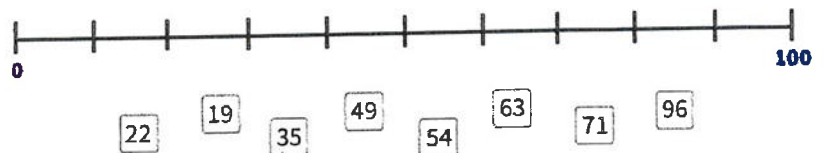
- Wat zie je hier?
- Welk getal staat er achter BSN?
- Wat betekent dit getal hier?
- Waar kom je dit getal nog meer tegen?

Plaatje 19:



- Welk getal zie je hier?
- Waar staat dit getal?
- Wat betekent dit getal?
- Waarom staat dit getal hier?

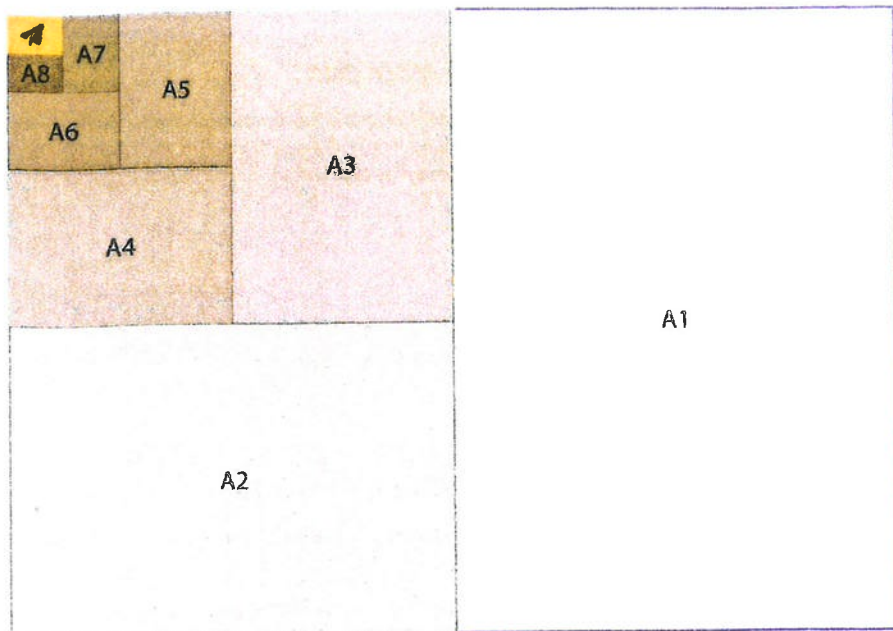
Plaatje 21:



Verbind deze getallen op de juiste wijze met een lijn met de bovenstaande lijn!

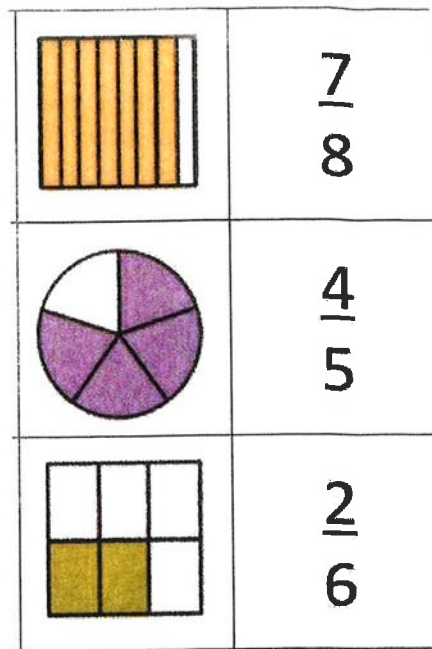
- Wat zie je hier?
- Welke getallen zie je?
- Waarom staan die getallen er?
- Welke getallen moeten er onder de (lege) verticale streepjes?
- Waarom zijn er zulke lijnen?

Plaatje 22:




- Wat zie je hier?
- Welke getallen zie je hier in combinatie met de A?
- Wat betekenen die getallen in combinatie met de A?
- Wanneer heb je met deze getallen te maken in combinatie met de A?

Plaatje 23:



- Welke getallen zie je hier?
- Wat betekenen die getallen hier?
- Wat hebben die gekleurde tekeningen met die getallen te maken?
- Waar kom je dit soort getallen tegen?

Plaatje 24:



- Wat zie je hier?
- Welke getallen zie je hier?
- Wat betekenen die getallen hier?
- Wat betekenen de getallen 0 – 0 en 1 – 4 hier?



**Plaatje 25:**



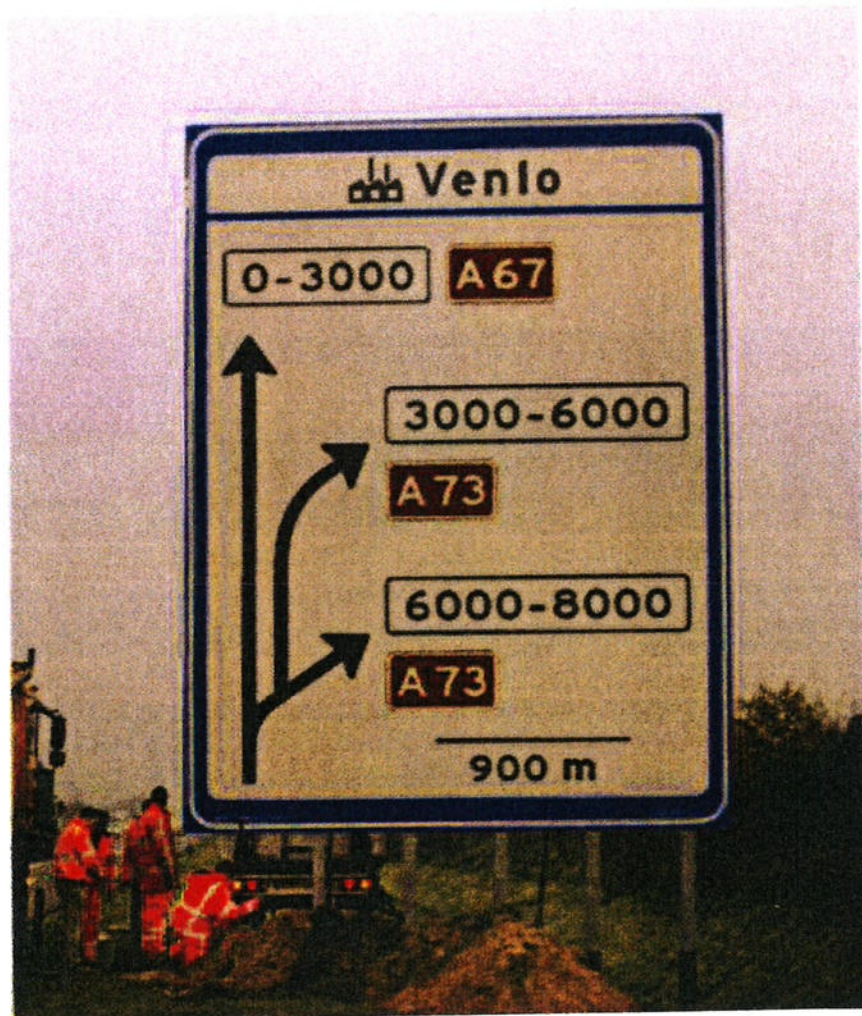
- a. Wat zie je hier?
- b. Welk getal zie je hier?
- c. Wat betekent dat getal hier?
- d. Waar kom je dit getal hier tegen?

**Plaatje 26:**



- a. Welk getal zie je hier bovenaan aan de voorkant van de bus?
- b. Wat betekent dat getal hier?
- c. Waar kom je zo'n getal nog meer tegen?

Plaatje 27:



- Welke getallen zie je hier in de witte vakjes staan?
- Wat betekenen die getallen hier?
- Welke getallen staan in de rode vakjes (in combinatie met de A)?
- Wat betekenen die getallen (in combinatie met de A) hier?
- Welk getal staat helemaal onderaan en wat betekent dit getal?
- Waar zie je al deze getallen hier staan?

**Plaatje 28:**



- a. Wat zie je hier?
- b. Welke getallen zie je hier?
- c. Waarom staan die getallen hier?

**Plaatje 29:**



- a. Wat zie je hier?
- b. Welke getallen zie je hier onder de groene en rode telefoon staan?
- c. Waarom staan die getallen daar?

**plaatje 30:**

3				8			
7	8	3	2				5
		9					1
9				4		2	
			1				
	7	8					9
	5			3			
8			4	7	5		3
		5					6

- a. Wat zie je hier?
- b. Welke getallen zie je hier?
- c. Waarom staan die getallen hier?
- d. Welke getallen moeten er in de lege vakjes staan?

**Plaatje 31:**



- a. Wat zie je hier?
- b. Welke getallen zie je hier?
- c. Wat betekenen die getallen hier?
- d. Waarvoor worden die getallen gebruikt?

Plaatje 32:



- Wat zie je hier?
- Waarvoor worden die gebruikt?
- Welke getallen zie je hier?
- Wat betekenen die getallen hier?
- Waarom worden deze kaarten op deze manier vastgehouden?

Plaatje 33



- Wat zie je hier?
- Welke getallen zie je?
- Waarom staan die getallen hier?
- Waarvoor worden die getallen gebruikt?

Plaatje 34:

- 8 Naar de dierentuin**  
Juliette de Wit
- 10 Appelboom**  
Jet Boeke met tekst van Arthur van Norden
- 13 Vliegen**  
Annie M.G. Schmidt met tekeningen van Fiep Westendorp
- 16 Zaterdag**  
Esther Leeuwrik
- 28 Klein wit visje**  
Guido Van Genechten
- 38 Daan en Doortje bij de kapper**  
Marianne Busser en Ron Schröder met tekeningen van Dagmar Stam
- 40 Gewoon — gek**  
Ingrid en Dieter Schubert
- 42 Kleintje Beer op de wip**  
Harmen van Straaten


- Wat zie je hier?
- Welke getallen zie je hier?
- Waarom staan die getallen hier?

Plaatje 35:




- a. Wat zie je hier?
- b. Welke getallen zie je hier?
- c. Wat betekenen die getallen hier?
- d. Wat hebben de drie pijltjes met die getallen te maken?

Plaatje 36:



- a. Welk getal zie je hier?
- b. Waar staat dat getal?
- c. Waarom staat dat getal daar?
- d. Waar kom je zulke getallen nog meer tegen?

Plaatje 37:



- a. Welke getallen zie je hier?
- b. Waar staan die getallen?
- c. Wat betekenen die getallen?
- d. Waar kom je zulke getallen nog meer tegen

Plaatje 38:



- a. Welke getallen zie je hier?
- b. Wat betekenen al die getallen hier?
- c. Waar kom je die getallen tegen?

Plaatje 39:

Vak	cijfers voor het:		EINDCIJFERS	
	school- onderzoek	centraal examen	cijfers	letters
Nederlandse taal en letterkunde	6,3	6,1	6	ZES
Duitse taal en letterkunde	6,8	7,4	7	ZEVEN
Engelse taal en letterkunde	6,2	6,0	6	ZES
geschiedenis en staatsinrichting	7,9	7,5	8	ACHT
aardrijkskunde	7,1	8,1	8	ACHT
biologie	5,7	4,6	5	VIJF
economische wetenschappen I en recht	4,6	5,6	5	VIJF

UITSLAG : GESLAAGD

- Wat zie je hier?
- Welke getallen zie je hier?
- Wat betekenen die getallen hier?
- Wat betekent "geslaagd" hier?

Plaatje 40:



- Welk getal zie je hier?
- Waar staat dat getal?
- Wat betekent dat getal?
- Waar kom je zulke getallen nog meer tegen?

Plaatje 41:



- Wat zie je hier?
- Welke datum staat hier?
- Wat betekent die datum?
- Welke getallen staan onder deze datum en wat betekenen ze?
- Welke getallen staan onderaan en wat betekenen ze?

**Plaatje 42:**



- a. Wat zie je hier?
- b. Welke getallen zie je hier?
- c. Wat betekenen die getallen hier?

**Plaatje 43:**



- a. Wie of wat zie je hier?
- b. Welk getal zie je hier?
- c. Waar zie je dat getal?
- d. Wat betekent dat getal hier?
- e. Waar kom je deze getallen nog meer tegen?

Plaatje 44:




- Wat zie je hier?
- Welke getallen zie je hier?
- Wat betekenen die getallen hier?

Plaatje 45:



- Wat zie je hier?
- Welk getal zie je hier?
- Wat betekent dat getal hier?
- Waar kom je zulke getallen tegen?

Plaatje 46:



- Wat zie je hier?
- Welke getallen zie je hier?
- Wat betekenen die getallen hier?



### Plaatje 47:


Jouw Bedrijfsnaam  
Adres: Straatnaam 14, PLAATS  
.....  
Datum: 01/02/2019 14:04

Lorem ipsum	4,55
Dolor sit	13,65
Amet	5,60
Consectetur ad.	4,90
Lorem	3,67
Dolor sit Amet	14,00
Consectetur	12,87

.....  
**Totaal:** € 59.24  
Betaald 60  
Terug 0,76  
Totaal is inclusief BTW: 6,54  
BTW A 21,00 % 4,55  
BTW B 9,00 % 1,99

- Wat zie je hier?
- Waar, wanneer en waarom krijg je dit?
- Welk getal is dikgedrukt en wat betekent dit getal?
- Waarom staan onder 14.04 al die getallen?

### Plaatje 48:



- Wat zie je hier?
- Welke getallen zie je hier?
- Wat betekenen die getallen hier?

### Plaatje 49:



- Welke getallen zie je hier?
- Waar zie je die getallen?
- Wat betekenen de getallen in de rode vakjes in combinatie met de A en het getal in het groene vakje in combinatie met de E en het getal onderaan?

Plaatje 50:



- Wat zie je hier?
- Welk getal zie je hier?
- Wat betekent dit getal hier?
- Waar kom je zulke getallen nog meer tegen?

Plaatje 51:



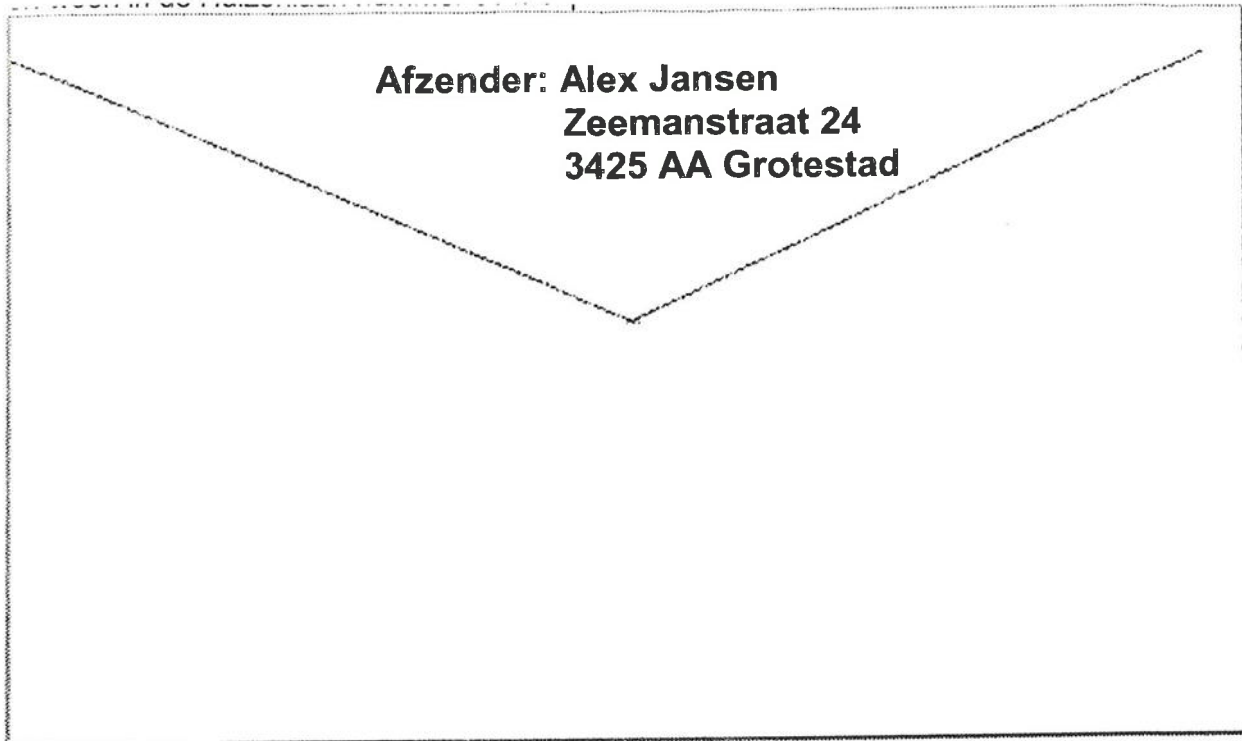
- Welke getal zie je hier?
- Wat betekent dat getal hier?
- Waarom staat die getal hier?

Plaatje 52:



- Welk getal zie je hier?
- Wat betekent dat getal hier in combinatie met de letters NPO?
- Waar kom je NPO in combinatie met andere getallen tegen?

**Plaatje 53:**



- a. Wat zie je hier?
- b. Welk getal zie je voor Grotestad staan in combinatie met de letters AA?
- c. Wat betekent dat getal in combinatie met de letters AA?
- d. Waar kom je zulke getallen in combinatie met twee letters nog meer tegen?
- e. Waarom staan die cijfers en letters voor Grotestad?


Plaatje 54a en 54b:



Hier zie je twee plaatjes.

- Wat hebben die twee plaatjes met elkaar te maken?
- Welke getallen zie je?
- Waar zie je die getallen staan?
- Wat betekenen die getallen?
- Waarom staan die getallen daar?

**Plaatje 55:**



- a. Wat zie je hier?
- b. Welke getallen zie je hier?
- c. Wat betekenen die getallen hier?
- d. Waar kom je zulke getallen tegen?
- e. Waarom wordt er van deze getallen gebruik gemaakt?

**Plaatje 56:**



- a. Wat zie je hier?
- b. Welk getal zie je hier?
- c. Wat betekent dat getal hier?
- d. Waar kom je zo'n getal tegen?

**Plaatje 57:**




- a. Wat zie je hier?
- b. Welk getal zie je hier?
- c. Wat betekent dit getal hier?
- d. Waar kom je dit getal nog meer tegen?

Plaatje 58:



- Wat zie je hier en waarvoor worden ze gebruikt?
- Welke getallen zie je hier?
- Wat betekenen die getallen hier?

Plaatje 59:



- Wat zie je hier?
- Welke getallen zie je hier?
- Wat betekenen die getallen hier?
- Hoe laat is het hier?

Plaatje 60:



- Wat zie je hier?
- Welke getallen zie je hier?
- Wat betekenen die getallen hier?
- Hoe laat is het hier?

Plaatje 61:



- Wat zie je hier?
- Welk getal zie je hier  
In combinatie met kg?
- Wat betekent dit getal  
in combinatie met kg?
- Waar kom je getallen in  
combinatie met "kg" en  
"g" (= gram) meer tegen?

Plaatje 62:



- Wat zie je hier?
- Welk getal zie je hier in  
combinatie met L?
- Wat betekent dit getal  
in combinatie met L?
- Waar kom je getallen  
in combinatie met "l"  
(cl, ml) nog meer tegen?

Plaatje 63:

$60 : 6 =$	$18 + 21 =$
$28 - 13 =$	$39 - 18 =$
$5 \times 4 =$	$21 : 3 =$
$17 + 8 =$	$7 + 11 =$
$4 \times 20 =$	$72 : 6 =$
$111 - 28 =$	$55 - 43 =$
$70 + 12 =$	$2 \times 6 =$
$100 - 19 =$	$2 + 9 =$


- Wat zie je hier?
- Welke getallen zie je  
hier?
- Wat betekenen die  
getallen in combinatie  
met + - x : hier?

Plaatje 64:

Voedingswaarde	100 gram	60 gram (gemiddeld 1 ei)
Energie	647,9 kJ / 155 kcal	388,8 kJ / 93 kcal
Vetten	4,4 gram	2,64 gram
Koolhydraten	1,4 gram	0,84 gram
Koolhydraten (suikers)	0,0 gram	0,0 gram
Vezels	0,0 gram	0,0 gram
Eiwitten	6,2 gram	3,72 gram
Zout	0,19 gram	0,11 gram






- Wat zie je hier?
- Welke getallen zie je hier?
- Wat betekenen die getallen in  
combinatie met kcal, kj, en g ?
- Waar kom je zulke getallen in  
combinatie met kcal, kj en g?

Plaatje 65:



- a. Wat zie je hier?
- b. Welk getal zie je hier?
- c. Wat betekent dat getal hier?
- d. Waar kom je zulk soort getallen nog meer tegen?

Plaatje 66:

1		<b>PSV</b>	16	12	1	3	<b>37</b>	40	23
2		<b>Ajax</b>	16	11	3	2	<b>36</b>	49	4
3		<b>Feyenoord</b>	16	11	3	2	<b>36</b>	39	15
4		<b>Vitesse</b>	16	9	2	5	<b>29</b>	22	23
5		<b>FC Twente</b>	16	8	4	4	<b>28</b>	24	20

- a. Wat zie je hier?
- b. Welke getallen zie je hier?
- c. Wat betekenen de getallen aan de linkerkant?
- d. Wat betekenen de getallen die aan de rechterkant van PSV staan?

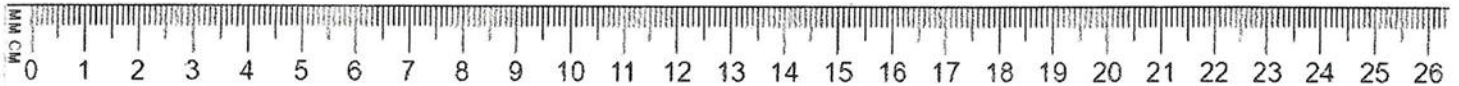


**Plaatje 67:**



- a. Wat zie je hier?
- b. Welke getallen zie je hier?
- c. Wat betekent het bovenste getal in combinatie met mH?
- d. Wat betekent het onderste getal?
- e. Waar kom je deze getallen tegen?

**Plaatje 68:**



- a. Wat zie je hier?
- b. Welke getallen zie je hier?
- c. Wat betekenen die getallen hier?
- d. Waarvoor worden die getallen gebruikt?